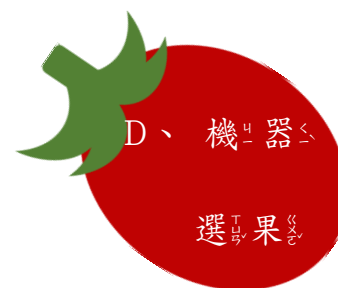






柑仔蜜的旅行

班級： 年 班 姓名： 教師簽名： 日期：

一、經過一個冬季的生長，柑仔蜜終於可以採收送到喜愛番茄的消費者手上。請將下面圖片代表的號碼填入框框中。



()

()



()

()

★ 請排出柑仔蜜旅行的順序：

() → () → () → ()

二、看圖並回答問題：

1、請問左邊照片中此箱番茄是要運送到哪一個果菜市場？

(選出正確的在□中打✓)

- 安南果菜市場
- 臺南市臺南地區農會
- 台北農產公司(農產一)
- 台北農產公司(農產二)



2、供應代號” D00515 ”指的是本地產銷班的代號， ” 123 ” 代表

表的是什麼？(選出正確的在□中打✓)

- 產銷班地址
- 班員的代號
- 農產公司的代號
- 果菜市場的代號

3、此件番茄的等級是特優級， L、 M、 S 各代表什麼意思？

L： () M： () S： ()

三、看過各種類的銷售管道，請你選擇一種銷售方式，並設計一份番茄銷售海報或網頁。

★ 我選擇的銷售方式是： _____

